

## ANNEXE 18 : Test d'appariement

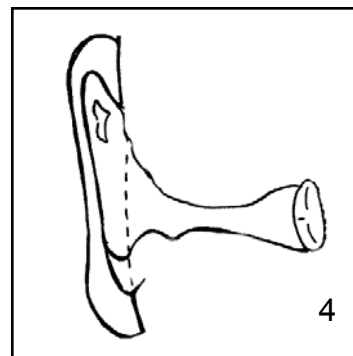
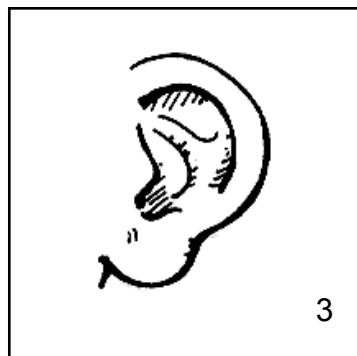
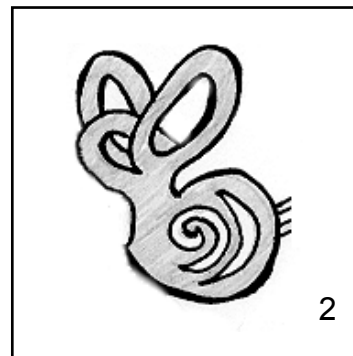
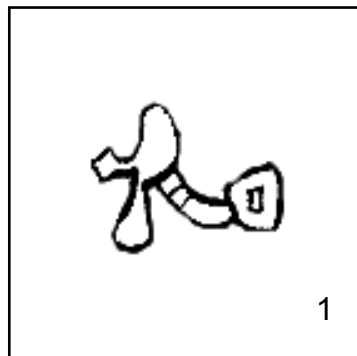
Nom : \_\_\_\_\_

Date : \_\_\_\_\_

1. Indique dans le tableau ci-dessous, le chiffre qui correspond au bon dessin et la lettre qui explique le rôle de chacune des principales parties de l'oreille.

	dessin	rôle
Oreille externe	_____	_____
Oreille moyenne	_____	_____
Oreille interne	_____	_____

2. Parmi les dessins suivants, lesquels illustrent l'oreille externe, l'oreille moyenne et l'oreille interne? Écris le chiffre qui correspond dans le tableau ci-dessus.



3. Fais le lien entre les passages suivants et les trois parties principales de l'oreille :
- Des millions de cils transforment les vibrations en signaux nerveux, interprétés par le cerveau.
  - Le son pénètre dans le pavillon, traverse le conduit auditif et frappe le tympan.
  - Par l'intermédiaire des osselets (marteau, enclume, étrier), le tympan transmet les vibrations sonores à la cochlée (limaçon)
  - Le son entre par le tympan et est amplifié par la cochlée.

