

ANNEXE 9 : Test

Nom : _____

Date : _____

1. La tour de Pise inquiète les ingénieurs depuis des siècles. Pourquoi?




2. Comment pourrait-on améliorer la solidité et la stabilité de cette structure? Propose 2 façons.


A) _____

B) _____


3. Dans les exemples qui suivent, identifie si les structures sont naturelles ou fabriquées.




naturelle
 fabriquée



naturelle
 fabriquée




naturelle
 fabriquée



naturelle
 fabriquée



naturelle
 fabriquée



naturelle
 fabriquée