


ANNEXE 26 : Test – L'interdépendance des systèmes


Nom : _____


Date : _____

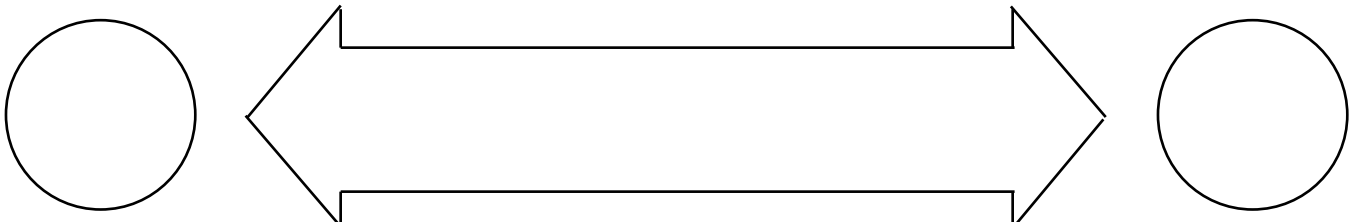
Donne cinq exemples précis de l'interdépendance qui peut exister entre les systèmes du corps humain. Pour chaque exemple que tu choisis, nomme les deux systèmes en jeu en les faisant figurer dans les cercles placés de part et d'autre du rectangle à flèches; dans ce dernier, explique clairement la nature de l'interdépendance. (La dépendance devrait être bidirectionnelle.)

EXPLICATIONS

A) 

B) 

C) 

D) 

E) 