



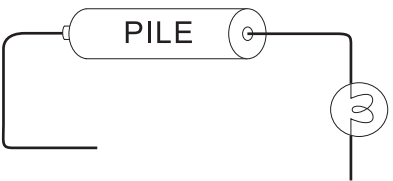
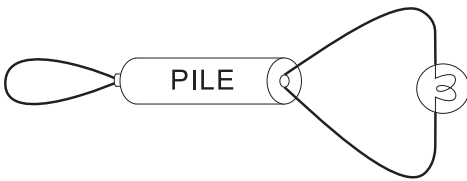
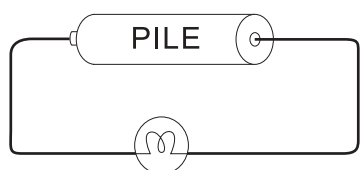
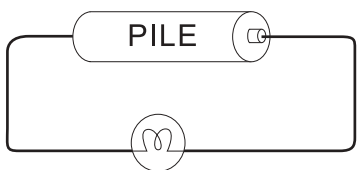
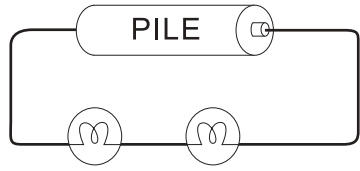
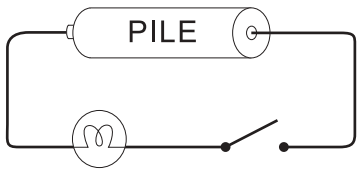
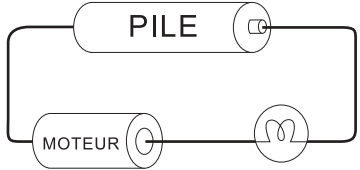
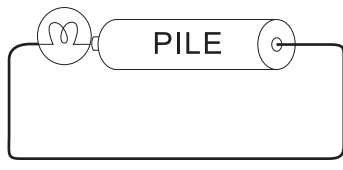
ANNEXE 11 : Test – Allumée ou non?

Nom : _____

Date : _____

Regarde attentivement les circuits suivants. Détermine pour chacun d'eux s'ils permettront ou non d'allumer une ampoule et pourquoi.

Légende :  symbole d'ampoule  symbole d'interrupteur

<p>1.</p>  <p><input type="checkbox"/> L'ampoule s'allumera. <input type="checkbox"/> L'ampoule ne s'allumera pas. Parce que _____</p>	<p>2.</p>  <p><input type="checkbox"/> L'ampoule s'allumera. <input type="checkbox"/> L'ampoule ne s'allumera pas. Parce que _____</p>
<p>3.</p>  <p><input type="checkbox"/> L'ampoule s'allumera. <input type="checkbox"/> L'ampoule ne s'allumera pas. Parce que _____</p>	<p>4.</p>  <p><input type="checkbox"/> L'ampoule s'allumera. <input type="checkbox"/> L'ampoule ne s'allumera pas. Parce que _____</p>
<p>5.</p>  <p><input type="checkbox"/> L'ampoule s'allumera. <input type="checkbox"/> L'ampoule ne s'allumera pas. Parce que _____</p>	<p>6.</p>  <p><input type="checkbox"/> L'ampoule s'allumera. <input type="checkbox"/> L'ampoule ne s'allumera pas. Parce que _____</p>
<p>7.</p>  <p><input type="checkbox"/> L'ampoule s'allumera. <input type="checkbox"/> L'ampoule ne s'allumera pas. Parce que _____</p>	<p>8.</p>  <p><input type="checkbox"/> L'ampoule s'allumera. <input type="checkbox"/> L'ampoule ne s'allumera pas. Parce que _____</p>

