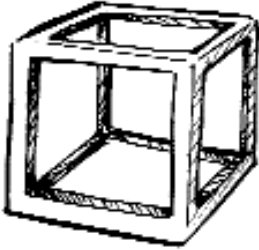


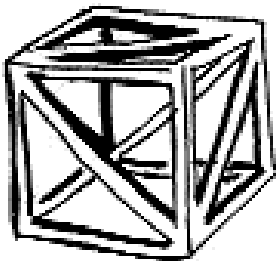
ANNEXE 7 : Stabilité d'un cube

Nom : _____

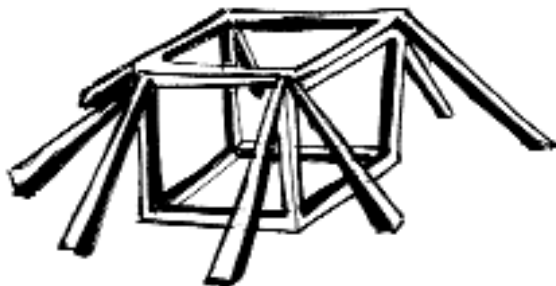
Date : _____



Ce cube **sans traverses** a supporté jusqu'à _____
avant de devenir instable. indique la charge



Ce cube **avec traverses** a supporté jusqu'à _____
avant de devenir instable. indique la charge



Ce cube **avec étais** a supporté jusqu'à _____
avant de devenir instable. indique la charge